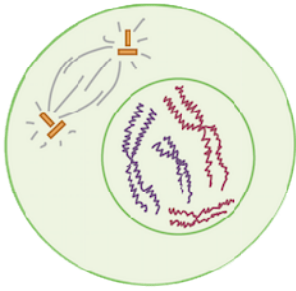
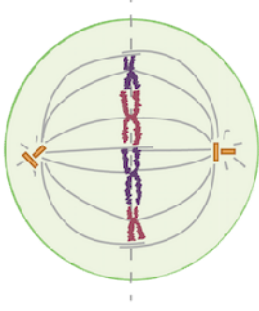


¿En qué fase de la mitosis se encuentra esta célula?



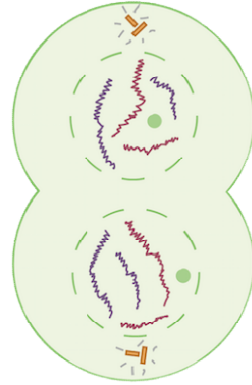
Pregunta 3.

¿En qué fase de la mitosis se encuentra esta célula?



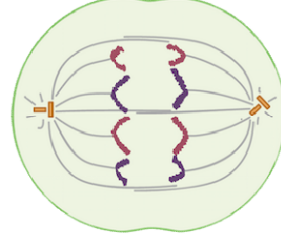
Pregunta 1.

¿En qué fase de la mitosis se encuentra esta célula?



Pregunta 4

¿Cuántos cromosomas se muestran en esta imagen? ¿Cuántas cromátidas son?



Pregunta 2

Metafase

Pregunta 1.

8 cromosomas y 8 cromátidas

Pregunta 2

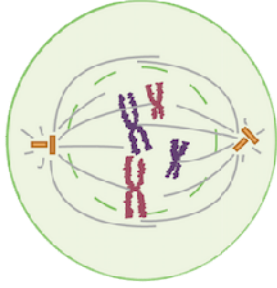
Profase

Pregunta 3.

Telofase

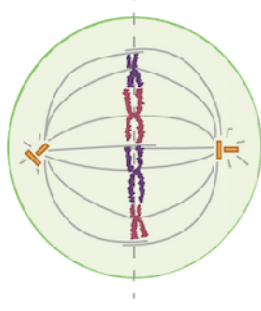
Pregunta 4

¿En qué fase de la mitosis se encuentra esta célula?



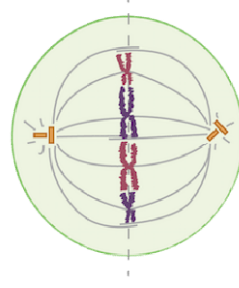
Pregunta 7

¿Cuál es el nombre del plano marcado con la línea punteada?



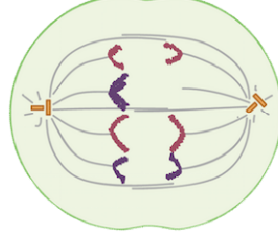
Pregunta 5

¿Cuántos cromosomas se muestran en esta imagen? ¿Cuántas cromátidas son?



Pregunta 8

¿Cómo se podría explicar lo que se ve en esta célula?



Pregunta 6

Placa metafásica

Pregunta 5

Durante la metafase, uno de los cromosomas no logró unirse a los microtúbulos de ambos polos del huso

Pregunta 6

Profase (tardía)

Pregunta 7

4 cromosomas y 8 cromátidas

Pregunta 4